

نماذج المهام الأدائية للفصل الدراسي الأول



مجاب عنه

١- المهمة الأدائية (محافظة)

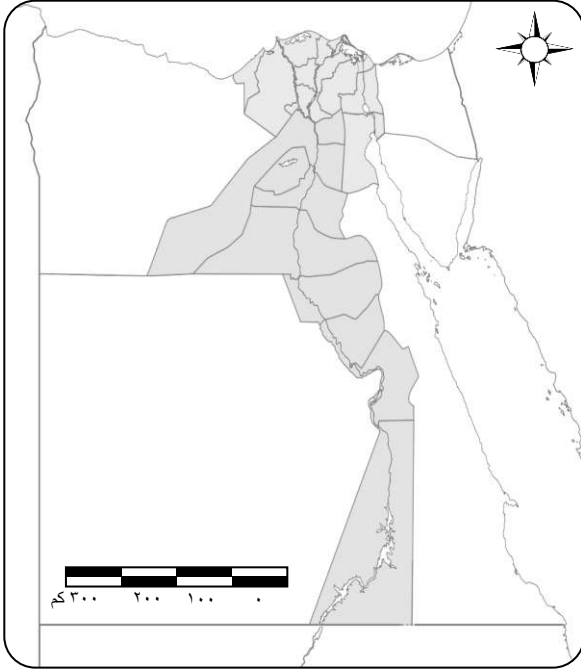
أمامك خريطة لمحافظة مصر لاحظها جيداً ثم نفذ المهمة التالية :

١- لون محافظتك واكتب أسماء المحافظات التي تحدها (٢ على الأقل).

٢- حدد البيئة التي تقع فيها محافظتك.

٣- حدد مشكلة بيئية تعاني منها محافظتك.

٤- اقترح حلول لهذه المشكلة (يكتفى بمقترح واحد).



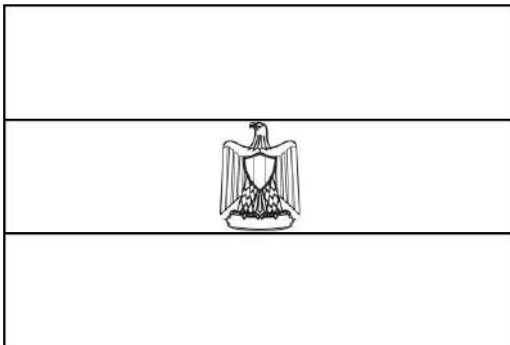
٢- المهمة الأدائية (علم بلادي)

يُعد علم مصر رمز للدولة ، لاحظه جيداً ثم نفذ المهمة التالية :

١- لون علم مصر بألوانه الصحيحة.

٢- اكتب جملة تعبر بها عن احترامك لعلم بلدك.

٣- تخيل أنه طلب منك تصميم شعاراً لمدرستك ترفعه في المسابقات بين المدارس ، حدد لون ورمز تستخدمهما في رسم شعار مدرستك مبرراً اختيارك.



اللون

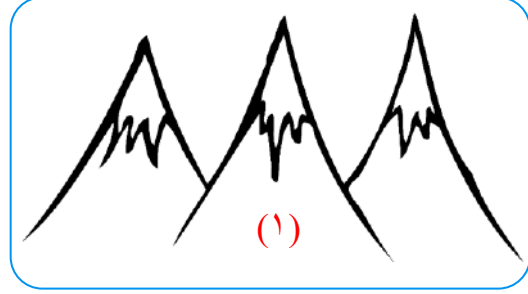
سبب الاختيار

الرمز

سبب الاختيار

٣- المهمة الأدائية (ظواهر تضاريسية)

أمامك صورتان لظواهر تضاريسية موجودة بمصر :



١- لون كل ظاهرة تضاريسية بلونها الصحيح في ضوء دراستك لخريطة مستويات ارتفاعات سطح مصر.

٢- اكتب اسم كل ظاهرة ثم صفها : اسم الظاهرة (١) ووصفها :

اسم الظاهرة (٢) ووصفها :

٣- حدد ظاهرة تضاريسية مميزة في محافظتك ثم صفها.

٤- المهمة الأدائية (مصادر المعلومات)

أوضحت المعلمة للتلاميذ أن الأهرامات تعد من أجمل المعالم السياحية في مصر وتوجد في منطقة الجيزة ، وأن الهرم الأكبر يسمى بهرم خوفو ، ويتميز بضخامة حجمه ويبلغ ارتفاعه الحالي ١٣٨ متراً ، وقال خالد أن منطقة الأهرامات منطقة جذابة ، وقالت مريم أن لدى والدها عديد من الكتب والموسوعات عن منطقة الأهرامات ، كلفت المعلمة التلاميذ بإجراء بحث عن الأهرامات ووجهتهم لاستخدام بنك المعرفة المصري وموقع وزارة السياحة والآثار المصرية ، لجمع المعلومات عنها ، وقال أحمد يمكنني زيارة منطقة الأهرامات لالتقاط بعض الصور والاستعانة بها في البحث .

١- استخرج من الفقرة السابقة مصدر أولي ومصدر ثانوي يمكن الرجوع إليهما عند إجراء بحث عن الأهرامات وسجلهما في الجدول التالي :

	مصدر أولي
	مصدر ثانوي

٢- استخرج من الفقرة السابقة ما يلي :

رأى :

.....

حقيقة :

.....

٣- في رأيك ، أي من الشكلين أدناه يعد مصدرًا أوليًا للمعلومات عن أهرامات الجيزة؟ (برر إجابتك).



٥- المهمة الأدائية (توقعات الأرصاد الجوية)

اقرأ التوقعات التالية لهيئة الأرصاد الجوية عن حالة الطقس ثم أجب :

Ministry of Civil Aviation
Egyptian Meteorological Authority
RSMC- Cairo

وزارة الطيران المدني
الهيئة العامة للأرصاد الجوية
الإدارة العامة للتنبؤات والإنذار المبكر

حالة الطقس المتوقعة
من السبت 11 ديسمبر 2021 إلى الخميس 16 ديسمبر 2021

• السبت 11 ديسمبر والأحد 12 ديسمبر 2021 : ارتفاع في درجات الحرارة على كافة الأجزاء
ليسود طقس معتدل الحرارة نهارا على القاهرة الكبرى والوجه البحري والسواحل الشمالية وشمال الصعيد
وجنوب سيناء مماثل للحرارة على جنوب الصعيد، يسارد ليلا على كافة الأجزاء.

درجات الحرارة العظمى والصغرى المتوقعة كالتالي:

المنطقة	السبت 11 ديسمبر	الأحد 12 ديسمبر	الاثنين 13 ديسمبر	الثلاثاء 14 ديسمبر	الأربعاء 15 ديسمبر	الخميس 16 ديسمبر
قاهرة والوجه البحري	24	25	21	20	20	19
السواحل الشمالية	23	22	21	19	18	18
جنوب سيناء	27	29	26	25	23	23
شمال الصعيد	25	26	22	21	20	20
جنوب الصعيد	30	30	28	25	23	23

السبت 11 ديسمبر والأحد 12 ديسمبر 2021

• شمس ماثية
(من 5 إلى 7 ميلاد)
• فرص أمطار خفيفة
(نسبة حدوث 30:20 ٪ تقريبا)

على بعض الطرق المؤدية من وإلى القاهرة الكبرى والوجه البحري والسواحل الشمالية
ومدن القناة ووسط سيناء وشمال الصعيد .
على مدينتي حلوان وشلاتين على فترات متقطعة .

١- حدد عناصر الطقس التي وردت بالفقرة.

٢- سجل الأداة التي تستخدم لقياس كل عنصر من عناصر الطقس الواردة بالفقرة.

الأداة	العنصر
.....
.....


٣- في رأيك ، لماذا من الضروري متابعة أخبار الطقس يوميا؟

إجابة المهام الأدائية

المهمة الأولى (محافظتك)

- أجب حسب محافظتك مستعيناً بالمثل التالي :
- ١- محافظتي الغربية.
 - ٢- المشكلة التي تعاني منها المحافظة هي مشكلة التلوث البيئي.
 - ٣- يمكن حل المشكلة عن طريق الحفاظ على موارد المياه بعدم إلقاء المخلفات بها - عدم حرق قش الأرز - التوسع في تشجير المحافظة.

المهمة الثانية (علم بلادي)

- ١- 
- ٢- العلم هو رمز الدولة ومن الواجب علينا احترام العلم.
- ٣- أجب بنفسك.

المهمة الثالثة (ظواهر تضاريسية)

- ١- الظاهرة (١) تلون باللون البني،
أما الظاهرة (٢) تلون باللون الأخضر.
- ٢- اسم الظاهرة (١) :
الجبل - الوصف هو أرض شديدة الارتفاع ولها قمة ويزيد ارتفاعها عن ١٠٠٠ م وجوانبها شديدة الانحدار.
اسم الظاهرة (٢) :
السهل الفيضي هو أرض مستوية قليلة الارتفاع وتتكون من رواسب الأنهار.
- ٣- أجب حسب محافظتك مستعيناً بالمثل التالي :
- من الظواهر التضاريسية في محافظتي الغربية : السهول الفيضية التي تمتاز بالتربة الخصبة والمياه العذبة.

المهمة الرابعة (مصادر المعلومات)

مصدر ثانوي	مصدر أولي
الكتب والموسوعات والأبحاث.	صورة عن الأهرامات.

٢- رأي: الأهرامات تعد من أجمل المعالم السياحية في مصر.

حقيقة: توجد الأهرامات في الجيزة.

٣- الشكل رقم (٢) لأنه صورة وتعد الصور من المصادر الأولية للمعلومات.

المهمة الخامسة (توقعات الأرصاد الجوية)

١- عناصر الطقس التي وردت بالفقرة (الحرارة والأمطار).

العنصر	الأداة المستخدمة لقياسه
١- الحرارة	تقاس بالترمومتر.
٢- الأمطار	تقاس بمقياس المطر.

٣- من الضروري متابعة أخبار الطقس يوميًا : لتحديد ومعرفة نوع الملابس التي نرتديها وعليه تتخذ بعض قراراتك اليومية .

تعليمات عامة :

- يستغرق العمل على المهمة حصتان دراستان متتاليتان.
- يوزع المعلم أوراق المهمة على الطلاب ويوضح لهم المقصود منها .
- يشرف المعلم على مراحل تنفيذ المهام خلال الحصص المخصصة لذلك.
- يجيب الطلاب عن المطلوب من المهمة في نفس الورقة.
- لا مانع من استخدام الطالب الكتاب المدرسي إذا أراد ذلك .


المهمة الاولى (أدوات تحديد المواقع)

١- أمامك مجموعة من الصور أكتب الرقم المناسب في المكان المناسب :

رقم () تعبر عن صورة فضائية

رقم () تعبر عن خريطة

رقم () تعبر عن صورة جوية



٢- للخريطة أهمية في حياتنا ، يستخدمها الكثير من الأشخاص أكتب الأشخاص الذين يستخدمون الخريطة في الجدول التالي :

الشخص الذي يستخدمها	فيما تستخدم
	تحديد ملكية الاراضي الزراعية
	تحديد المواقع الحربية
	يستخدمها في المذاكرة



٣- الشكل المقابل يعرف باسم

٤- الجهات الاصلية عددها

٥- أذكر اثنين من الجهات الاصلية و

تعليمات عامة :

- يستغرق العمل على المهمة حصتان دراستان متتاليتان.
- يوزع المعلم أوراق المهمة على الطلاب ويوضح لهم المقصود منها .
- يشرف المعلم على مراحل تنفيذ المهام خلال الحصص المخصصة لذلك.
- يجيب الطلاب عن المطلوب من المهمة في نفس الورقة.
- لا مانع من استخدام الطالب الكتاب المدرسي إذا أراد ذلك .

المهمة الثانية (المصادر الأولية والمصادر الثانوية)

١- أمامك مجموعة من الصور صل كل صورة بما يناسبها من الجمل اسفلها ونوع المصدر الخاص بها :

● مصدر أولي

● مصدر ثانوي

● مصدر أولي



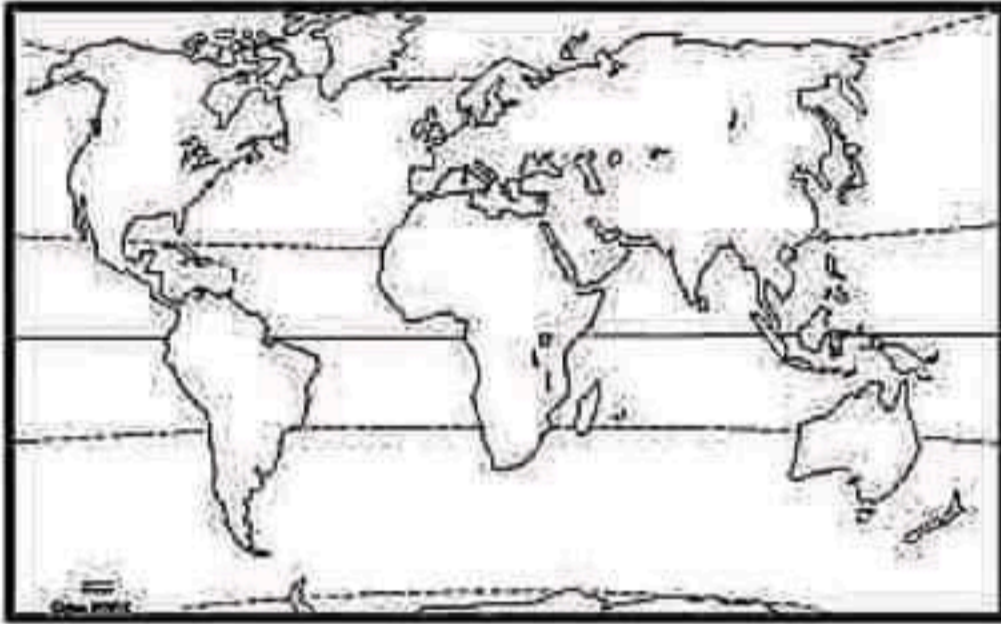
● نقش على لوحة الملك نعرمر "مينا" ● صورة للاحتفال بقناة السويس الجديدة ● صورة لافتتاح قناة السويس عام ١٨٦٩م

- ٢- " الحقائق تتسم بالدقة والموضوعية " هذه العبارة (صحيحة - خطأ)
- ٣- " الآراء تعبر عما يشعر به أو يفكر فيه شخص ما تجاه موضوع معين " هذه العبارة (صحيحة - خطأ)
- ٤- " الحقائق هي معلومات أو أحداث تم اثبات صحتها والتأكد من دقتها " هذه العبارة (صحيحة - خطأ)
- ٥- مدينة شرم الشيخ من اجمل المدن السياحية في مصر . هذه العبارة تعبر عن (حقيقة - رأى)
- ٦- قناة السويس أهم ممر ملاحى فى العالم . هذه العبارة تعبر عن (حقيقة - رأى)
- ٧- قناة سيزوستريس تم حفرها فى عهد الملك سنوسرت الثالث . هذه العبارة تعبر عن (حقيقة - رأى)

تعليمات عامة :

- يستغرق العمل على المهمة حصتان دراسيتان متتاليتان.
- يوزع المعلم أوراق المهمة على الطلاب ويوضح لهم المقصود منها .
- يشرف المعلم على مراحل تنفيذ المهام خلال الحصص المخصصة لذلك.
- يجيب الطلاب عن المطلوب من المهمة في نفس الورقة.
- لا مانع من استخدام الطالب الكتاب المدرسي إذا أراد ذلك .

المهمة الثالثة (موقع مصر بالنسبة للعالم)



الخريطة التي أمامك هي خريطة العالم :

١- لون قارة إفريقيا بلون مناسب

٢- من خلال الخريطة أذكر :

- اسم قارتين من قارات العالم القديم بخلاف إفريقيا و
- اسم قارتين من قارات العالم الجديد و
- ٣- تطل مصر على بحرين من أهم بحار العالم هما و
- ٤- ما اسم القناة التي تربط بين هذين البحرين ؟
- ٥- استخدم المصريون القدماء كطريق للتجارة بين شمال مصر وجنوبها .
- ٦- أكتب جملة من تعبيرك توضح فيها أهمية هذه القناة للملاحة والتجارة الدولية.

تعليمات عامة :

- يستغرق العمل على المهمة حصتان دراسيتان متتاليتان.
- يوزع المعلم أوراق المهمة على الطلاب ويوضح لهم المقصود منها .
- يشرف المعلم على مراحل تنفيذ المهام خلال الحصص المخصصة لذلك.
- يجيب الطلاب عن المطلوب من المهمة في نفس الورقة.
- لا مانع من استخدام الطالب الكتاب المدرسي إذا أراد ذلك .

المهمة الخامسة (رموز بلدى)



١- الشعار الذى امامك شعار خاص بمحافظة

٢- الجامع الذى يوجد بالشعار هو الجامع

٣- الشمس الساطعة بالشعار تدل على

٤- أذكر اثنين من مظاهر الاحتفال بالعيد القومي للمحافظة :

٥- ضع علامة (√) امام السلوكيات التى تعبر عن احترامك لعلم بلدك مصر :

- شراء علم جديد لإحياء أحد الاحتفالات الوطنية ()
- إنزال العلم ووضعها بجانبك وانت تقف بحيث يلامس الأرض ()
- الوقوف تحية للعلم فى مدرستك ()
- تحرك أحد التلاميذ أثناء تحية العلم ()
- رفع علم مصر عاليا وهو ممزق ()

٦- ما اسم النشيد الذى تقوم بترديده مع تحية العلم؟

٧- النسر الموجود وسط علم مصر مأخوذ من نسر

٨- اختر لون من ألوان العلم الثلاثة واكتب على أى شئ يدل هذا اللون .

تعليمات عامة :

- يستغرق العمل على المهمة حصتان دراسيتان متتاليتان.
- يوزع المعلم أوراق المهمة على الطلاب ويوضح لهم المقصود منها .
- يشرف المعلم على مراحل تنفيذ المهام خلال الحصص المخصصة لذلك.
- يجيب الطلاب عن المطلوب من المهمة في نفس الورقة.
- لا مانع من استخدام الطالب الكتاب المدرسي إذا أراد ذلك .

المهمة السادسة (الطقس والمناخ)

١- أمامك ثلاثة أدوات تستخدم في جمع المعلومات حول الطقس صل كل شكل بما يناسبه من كلمات:

جورب الرياح

ميزان الحرارة

مقياس المطر



٢- إذا كانت درجة الحرارة نهاراً يوم الأحد الموافق ١٥ / ١٢ / ٢٠٢٣ م على القاهرة ٢٥ درجة بينما سجلت درجة الحرارة ليلاً ١٠ درجات .

بذلك استخدمنا أداة من أدوات قياس عناصر الطقس وهي جهاز

٣- حدد من الجمل الآتية أيهما يصف حالة الطقس وأيها يصف حالة المناخ :

- في الأسبوع القادم نتوقع هطول أمطار غزيرة (.....)
- غالباً ما يكون فصل الصيف جافاً وحاراً في مصر (.....)

٤- هناك العديد من الأنشطة التي تستفيد من خدمات الأرصاد الجوية ، ضع دائرة حول الأنشطة التي

تستفيد من هذه الخدمات :

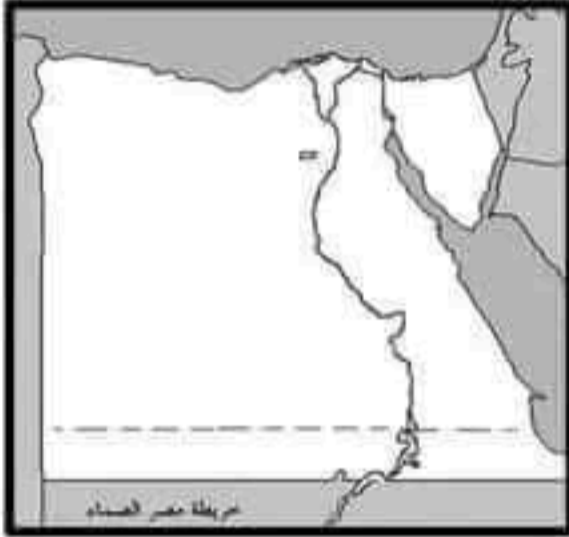
- الزراعة * النقل * الصور * صيد الأسماك * المقالات * السياحة

٥- مناخ مصر معتدل وممطر في الشتاء ، حار جاف في الصيف ، ويسود المناخ
معظم الأراضي المصرية.

تعليمات عامة :

- يستغرق العمل على المهمة حصتان دراسيتان متتاليتان.
- يوزع المعلم أوراق المهمة على الطلاب ويوضح لهم المقصود منها .
- يشرف المعلم على مراحل تنفيذ المهام خلال الحصص المخصصة لذلك.
- يجيب الطلاب عن المطلوب من المهمة في نفس الورقة.
- لا مانع من استخدام الطالب الكتاب المدرسي إذا أراد ذلك .

المهمة السابعة (البيئات المصرية)



١- الخريطة المقابلة هي خريطة صماء لمصر من خلالها أجب :

- شبه جزيرة سيناء تعتبر بيئة
- وادي النيل ودلتاه تعتبر بيئة
- بحر الرمال العظيم يعتبر بيئة
- يمكنك شراء الخضروات والفاكهة من البيئة
- عند زيارتك للاسكندرية فانت تستمتع بالبيئة

٢- يأتي السياح إلى مصر لمشاهدتها وخاصة على سواحل البحر الاحمر وخليجي العقبة والسويس

للتمتع بمناظرها وألوانها الخلابة فما هي ؟

٣- تعتمد زراعة المحاصيل في وادي النيل ودلتاه على مياه

٤- من أكبر البحيرات الصناعية في العالم وتعد موطناً للكثير من الاسماك هي

٥- الرمال البيضاء تدخل في صناعة والخلايا الشمسية .

٦- السهول الساحلية على البحر الاحمر ضيقه ، أذكر السبب

٧- اكتب جملة لصديق لك تصف فيها البيئة الصحراوية .

.....

.....

تعليمات عامة :

- يستغرق العمل على المهمة حصتان دراسيتان متتاليتان.
- يوزع المعلم أوراق المهمة على الطلاب ويوضح لهم المقصود منها .
- يشرف المعلم على مراحل تنفيذ المهام خلال الحصص المخصصة لذلك.
- يجيب الطلاب عن المطلوب من المهمة في نفس الورقة.
- لا مانع من استخدام الطالب الكتاب المدرسي إذا أراد ذلك .

المهمة الثامنة (نحو حياة مستدامة)

١- أمامك مجموعة من السلوكيات ضع علامة (√) أمام السلوكيات التي ترى أنها جيدة وعلامة (x)

أمام السلوكيات التي ترى أنها غير جيدة :

- ترك التليفزيون مفتوح طوال الليل ونحن نيام ()
- إلقاء القمامة في الترع ونهر النيل ()
- إغلاق صنور المياه أثناء تنظيف أسناني ()
- شراء كميات مناسبة من الطعام وعدم تخزينها ()
- استخدام الدش بدلاً من حوض الاستحمام ()

٢- اتجهت دول العالم لاستخدام مصادر الطاقة المتجددة لأنها طاقة نظيفة لا تتسبب في تلوث البيئة

أذكر اثنين من هذه المصادر و


٣- الصور التالية صور تعبر عن توليد الكهرباء من الطاقة المتجددة صل كل صورة بما يناسبها من

كلمات :

توليد الكهرباء من المياه

توليد الكهرباء من الرياح

توليد الكهرباء من الشمس



٤- أطلقت الدولة مبادرة لحث المواطنين على المشاركة في الحفاظ على البيئة وترشيد استهلاك

الغذاء والطاقة والتوعية بأهمية التشجير وإعادة تدوير المخلفات ؟

ما اسم هذه المبادرة

٥- اقترح أحد الحلول للحفاظ على مياه نهر النيل.

٦- شجعت الدولة المزارعين على استخدام بدلاً من الأسمدة الكيميائية .

تعليمات عامة :

- يستغرق العمل على المهمة حصتان دراسيتان متتاليتان.
- يوزع المعلم أوراق المهمة على الطلاب ويوضح لهم المقصود منها .
- يشرف المعلم على مراحل تنفيذ المهام خلال الحصص المخصصة لذلك.
- يجيب الطلاب عن المطلوب من المهمة في نفس الورقة.
- لا مانع من استخدام الطالب الكتاب المدرسي إذا أراد ذلك .

المهمة التاسعة (الحرف التراثية)

١- أمامك مجموعة من الصور صل كل عبارة بالصورة التي تناسبها :



صناعة الزجاج

صناعة الخيامية

صناعة السجاد اليدوي

صناعة الفخار

٢- من أشهر القرى بصناعة الزجاج قرية

٣- من أشهر القرى بصناعة النسيج والسجاد اليدوي قرية

٤- تتركز صناعة الخيامية بشارع الخيامية بحى محافظة

٥- قائمة التراث العالمي المسنول عنها هي منظمة

٦- أهم المعارض التي أقامتها الدولة للحرف اليدوية هو معرض

٧- " الحرف التراثية تدعم السياحة المستدامة " العبارة (صحيحة - خاطئة)

٨- " توفر الحرف التراثية فرص عمل للشباب " العبارة (صحيحة - خاطئة)

٩- " الحرف التراثية اليدوية تلوث البيئة بسبب المخلفات " العبارة (صحيحة - خاطئة)

١٠- " تقوم الدولة برعاية مصالح العمال بالحرف التراثية واعداد برامج تدريبية لهم "

العبارة (صحيحة - خاطئة)

تعليمات عامة :

- يستغرق العمل على المهمة حصتان دراستان متتاليتان.
- يوزع المعلم أوراق المهمة على الطلاب ويوضح لهم المقصود منها .
- يشرف المعلم على مراحل تنفيذ المهام خلال الحصص المخصصة لذلك.
- يجيب الطلاب عن المطلوب من المهمة في نفس الورقة.
- لا مانع من استخدام الطالب الكتاب المدرسي إذا أراد ذلك .

المهمة العاشرة (المستثمر الصغير)



١- أمامك صورة لبنك مصر وصورة أخرى للبنك المركزي المصري ، أجب عن الاسئلة الآتية :

- من الذي قام بتأسيس بنك مصر ؟
- متى تم تأسيس بنك مصر ؟
- من المسئول عن إصدار النقود والاشراف على البنوك ؟
- الاموال التي يعطيها البنك للمستثمرين يطلق عليها اسم
- كلما قل الاستهلاك زاد وزاد الاستثمار وازدهر الاقتصاد .
- الاشياء التي يجب ان نحصل عليها لنعيش يطلق عليها
- الاشياء التي تستطيع العيش بدونها يطلق عليها

٢- اكتب أمام العبارات الآتية الكلمة التي تناسبها مما يلي (حاجات) (رغبات) :

- شراء المواد الغذائية ()
- شراء كرة قدم ()
- شراء أدوات مدرسية ()
- شراء ساعة حائط ()
- شراء سيارة لعبة ()
- شراء معجون أسنان ()
- شراء حذاء للمدرسة ()
- شراء بلاي ستيشن ()

الزمن / فترة دراسية
المادة / دراسات اجتماعية
الصف / الرابع الابتدائي

العام الدراسي ٢٠٢٣/٢٠٢٤ م
الفصل الدراسي الأول

محافظة
إدارة التعليمية
توجيه الدراسات الاجتماعية

تعليمات عامة :

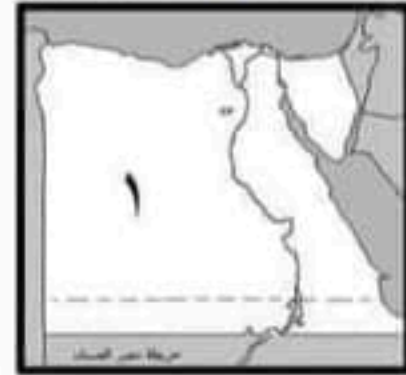

- يستغرق العمل على المهمة حصتان دراستان متتاليتان.
- يوزع المعلم أوراق المهمة على الطلاب ويوضح لهم المقصود منها .
- يشرف المعلم على مراحل تنفيذ المهام خلال الحصص المخصصة لذلك.
- يجيب الطلاب عن المطلوب من المهمة في نفس الورقة.
- لا مانع من استخدام الطالب الكتاب المدرسي إذا أراد ذلك .

المهمة الاولى (أدوات تحديد المواقع)

١- أمامك مجموعة من الصور أكتب الرقم المناسب في المكان المناسب :

- رقم (2) تعبر عن صورة فضائية
رقم (1) تعبر عن خريطة
رقم (3) تعبر عن صورة جوية

أ / محمد وهيب
استاذ الدراسات الاجتماعيه
٠١٠٦٦٠٩٥٤٦٥



٢- للخريطة أهمية في حياتنا ، يستخدمها الكثير من الاشخاص أكتب الاشخاص الذين يستخدمون الخريطة في الجدول التالي :

الشخص الذي يستخدمها	فيما تستخدم
الفلاح	تحديد ملكية الاراضي الزراعية
الجيش	تحديد المواقع الحربية
الطالب	يستخدمها في المذاكرة



٣- الشكل المقابل يعرف باسم ورده البوصلة

٤- الجهات الاصلية عددها اربعة

٥- اذكر اثنين من الجهات الاصلية الشمال والجنوب

تعليمات عامة :

- يستغرق العمل على المهمة حصتان دراسيتان متتاليتان.
- يوزع المعلم أوراق المهمة على الطلاب ويوضح لهم المقصود منها .
- يشرف المعلم على مراحل تنفيذ المهام خلال الحصص المخصصة لذلك.
- يجيب الطلاب عن المطلوب من المهمة في نفس الورقة.
- لا مانع من استخدام الطالب الكتاب المدرسي إذا أراد ذلك .

المهمة الثانية (المصادر الاولية والمصادر الثانوية)

١- أمامك مجموعة من الصور صل كل صورة بما يناسبها من الجمل اسفلها ونوع المصدر الخاص بها :



● نقش على لوحة الملك نعرمر "مينا" ● صورة للاحتفال بقناة السويس الجديدة ● صورة لافتتاح قناة السويس عام ١٨٦٩م

أ / محمد وهبه

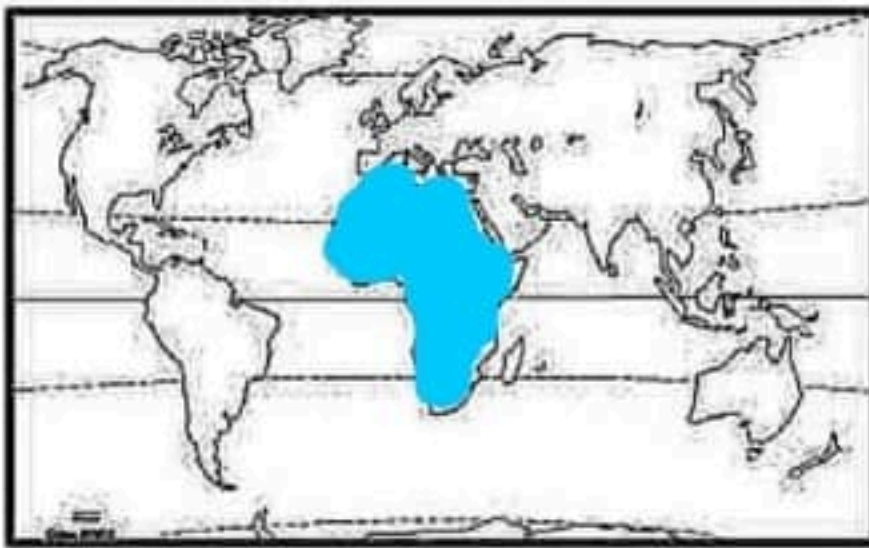
استاذ الدراسات الاجتماعيه
٠١٠٦٦٠٩٥٤٦٥

- ٢- " الحقائق تتسم بالدقة والموضوعية " هذه العبارة (صحيحة - خطأ)
- ٣- "الآراء تعبر عما يشعر به أو يفكر فيه شخص ما تجاه موضوع معين"
هذه العبارة (صحيحة - خطأ)
- ٤- "الحقائق هي معلومات أو أحداث تم اثبات صحتها والتأكد من دقتها"
هذه العبارة (صحيحة - خطأ)
- ٥- مدينة شرم الشيخ من اجمل المدن السياحية في مصر .
هذه العبارة تعبر عن (حقيقة - رأى)
- ٦- قناة السويس أهم ممر ملاحى فى العالم .
هذه العبارة تعبر عن (حقيقة - رأى)
- ٧- قناة سيزوستريس تم حفرها فى عهد الملك سنوسرت الثالث .
هذه العبارة تعبر عن (حقيقة - رأى)

تعليمات عامة :

- يستغرق العمل على المهمة حصتان دراستان متتاليتان.
- يوزع المعلم أوراق المهمة على الطلاب ويوضح لهم المقصود منها .
- يشرف المعلم على مراحل تنفيذ المهام خلال الحصص المخصصة لذلك.
- يجيب الطلاب عن المطلوب من المهمة في نفس الورقة.
- لا مانع من استخدام الطالب الكتاب المدرسي إذا أراد ذلك .

المهمة الثالثة (موقع مصر بالنسبة للعالم)



الخريطة التي أمامك هي خريطة العالم :

١- لون قارة إفريقيا بلون مناسب

أ / محمد وهبه

استاذ الدراسات الاجتماعيه
٠١٠٦٦٠٩٥٤٦٥

٢- من خلال الخريطة أذكر :

- اسم قارتين من قارات العالم القديم بخلاف إفريقيا
 - اسم قارتين من قارات العالم الجديد
 - ٣- تطل مصر على بحرين من أهم بحار العالم هما البحر الاحمر و البحر المتوسط
 - ٤- ما اسم القناة التي تربط بين هذين البحرين ؟ قناة السويس
 - ٥- استخدم المصريون القدماء نهر النيل كطريق للتجارة بين شمال مصر وجنوبها .
 - ٦- أكتب جملة من تعبيرك توضح فيها أهمية هذه القناة للملاحة والتجارة الدولية.
- ساعدت قناة السويس الجديدة علي

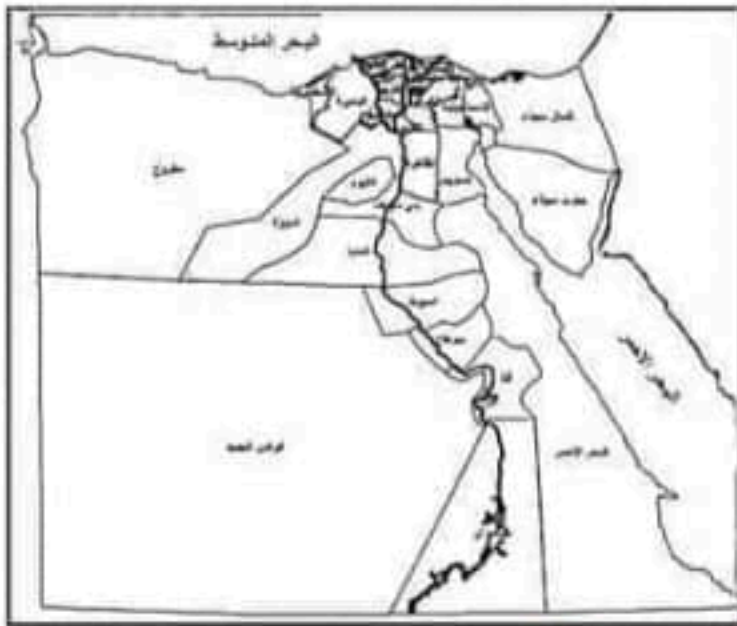
تقليل زمن مرور السفن في القناة من 20 الى 11 ساعة

استيعاب سفن اكبر حجما وحمولة
السماح بمرور السفن في الاتجاهين

تعليمات عامة :

- يستغرق العمل على المهمة حصتان دراستان متتاليتان.
- يوزع المعلم أوراق المهمة على الطلاب ويوضح لهم المقصود منها .
- يشرف المعلم على مراحل تنفيذ المهام خلال الحصص المخصصة لذلك.
- يجيب الطلاب عن المطلوب من المهمة في نفس الورقة.
- لا مانع من استخدام الطالب الكتاب المدرسي إذا أراد ذلك .

المهمة الرابعة (محافظات مصر)



الخريطة التي أمامك هي خريطة محافظات مصر

أجب عن الاسئلة الآتية :

- ١- عاصمة جمهورية مصر العربية هي محافظة
القاهرة
- ٢- بلغ عدد محافظات مصر **27** محافظة
- ٣- أذكر:

• اثنين من محافظات الحدود **شمال سيناء و جنوب سيناء**

• اثنين من محافظات الوجه القبلي **قنا و اسوان**

٤- باستخدام نظام تحديد المواقع العالمي GPS يرغب احد السائحين في الذهاب من القاهرة إلى اسوان

ما الاتجاه الذي سوف يأخذه للوصول الى وجهته ؟

الجنوب

أ / محمد وهبه
استاذ الدراسات الاجتماعيه
٠١٠٦٦٠٩٥٤٦٥

٥- ما اسم الخطوط التي تفصل بين محافظة واخرى ؟

حدود ادارية

٦- قامت الدولة حالياً بإنشاء العاصمة الادارية الجديدة ، أذكر السبب ؟

لتخفيف الضغط السكاني على مدينة القاهرة

تعليمات عامة :

- يستغرق العمل على المهمة حصتان دراستان متتاليتان.
- يوزع المعلم أوراق المهمة على الطلاب ويوضح لهم المقصود منها .
- يشرف المعلم على مراحل تنفيذ المهام خلال الحصص المخصصة لذلك.
- يجيب الطلاب عن المطلوب من المهمة في نفس الورقة.
- لا مانع من استخدام الطالب الكتاب المدرسي إذا أراد ذلك .

المهمة الخامسة (رموز بلدى)



١- الشعار الذى امامك شعار خاص بمحافظة.....**القاهرة**...

٢- الجامع الذى يوجد بالشعار هو الجامع.....**الازهر**.....

٣- الشمس الساطعة بالشعار تدل على
ان الازهر منارة الاسلام في العالم

٤- اذكر اثنين من مظاهر الاحتفال بالعيد القومي للمحافظة :

.....**تحميل الشوارع والميادين**.....

.....**افتتاح المحافظ عدد من المشروعات**.....

٥- ضع علامة (√) امام السلوكيات التى تعبر عن احترامك لعلم بلدك مصر :

- شراء علم جديد لإحياء أحد الاحتفالات الوطنية (✓)
- إنزال العلم ووضعها بجانبك وانت تقف بحيث يلامس الأرض ()
- الوقوف تحية للعلم فى مدرستك (✓)
- تحرك أحد التلاميذ أثناء تحية العلم ()
- رفع علم مصر عاليا وهو ممزق ()

أ / محمد وهبه
استاذ الدراسات الاجتماعيه
٠١٠٦٦٠٩٥٤٦٥

٦- ما اسم النشيد الذى تقوم بترديده مع تحية العلم؟.....**النشيد الوطني**.....

٧- النسر الموجود وسط علم مصر مأخوذ من نسر.....**صلاح الدين الايوبي**.....

٨- اختر لون من ألوان العلم الثلاثة واكتب على أى شين يدل هذا اللون .

.....**اللون الابيض يدل على السلام**.....

تعليمات عامة :

- يستغرق العمل على المهمة حصتان دراستان متتاليتان.
- يوزع المعلم أوراق المهمة على الطلاب ويوضح لهم المقصود منها .
- يشرف المعلم على مراحل تنفيذ المهام خلال الحصص المخصصة لذلك.
- يجيب الطلاب عن المطلوب من المهمة في نفس الورقة.
- لا مانع من استخدام الطالب الكتاب المدرسي إذا أراد ذلك .

المهمة السادسة (الطقس والمناخ)

١- أمامك ثلاثة أدوات تستخدم في جمع المعلومات حول الطقس صل كل شكل بما يناسبه من كلمات:



٢- إذا كانت درجة الحرارة نهارا يوم الاحد الموافق ١٥ / ١٢ / ٢٠٢٣ م على القاهرة ٢٥ درجة بينما سجلت درجة الحرارة ليلا ١٠ درجات .

ميزان الحرارة (الترمومتر)

بذلك استخدمنا أداة من أدوات قياس عناصر الطقس وهي جهاز

٣- حدد من الجمل الآتية ايها يصف حالة الطقس وايها يصف حالة المناخ :

- في الاسبوع القادم نتوقع هطول أمطار غزيرة (.....طقس).
- غالبا ما يكون فصل الصيف جافا وحارا في مصر (.....مناخ).

٤- هناك العديد من الأنشطة التي تستفيد من خدمات الارصاد الجوية ، ضع دائرة حول الأنشطة التي

تستفيد من هذه الخدمات :

- الزراعة
- النقل
- الصور
- صيد الاسماك
- المقالات
- السياحة

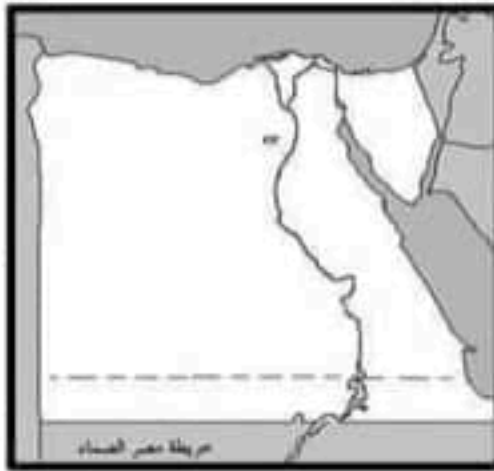
٥- مناخ مصر معتدل وممطر في الشتاء ، حار جاف في الصيف ، ويسود المناخ الصحراوي الحار معظم الاراضي المصرية.

تعليمات عامة :

أ / محمد وهبه
استاذ الدراسات الاجتماعية
٠١٠٦٦٠٩٥٤٦٥

- يستغرق العمل على المهمة حصتان دراسيتان متتاليتان.
- يوزع المعلم أوراق المهمة على الطلاب ويوضح لهم المقصود منها .
- يشرف المعلم على مراحل تنفيذ المهام خلال الحصص المخصصة لذلك.
- يجيب الطلاب عن المطلوب من المهمة في نفس الورقة.
- لا مانع من استخدام الطالب الكتاب المدرسي إذا أراد ذلك .

المهمة السابعة (البيئات المصرية)



١- الخريطة المقابلة هي خريطة صماء لمصر من خلالها أجب :

- شبه جزيرة سيناء تعتبر بيئة **صحراوية**
- وادي النيل ودلتاه تعتبر بيئة **زراعية**
- بحر الرمال العظيم يعتبر بيئة **صحراوية**
- يمكنك شراء الخضروات والفاكهة من البيئة **الزراعية**
- عند زيارتك لاسكندرية فانت تستمتع بالبيئة **الساحلية**

٢- يأتي السياح إلى مصر لمشاهدتها وخاصة على سواحل البحر الاحمر وخليجي العقبة والسويس

للتمتع بمناظرها وأوانها الخلابة فما هي ؟ **الشعاب المرجانية**

٣- تعتمد زراعة المحاصيل في وادي النيل ودلتاه على مياه **نهر النيل**

٤- من أكبر البحيرات الصناعية في العالم وتعد موطناً للكثير من الاسماك هي **بحيرة ناصر**

٥- الرمال البيضاء تدخل في صناعة **الزجاج** والخلايا الشمسية .

٦- السهول الساحلية على البحر الاحمر ضيقه ، أذكر المسبب **لاقتراب جبال البحر الاحمر من الساحل**

٧- اكتب جملة لصديق لك تصف فيها البيئة الصحراوية .

تشمل الصحراء الشرقية والصحراء الغربية وشبه جزيرة سيناء فهي بذلك تمثل مظم مساحة مصر وتعتمد الحياة فيها على المياه الجوفية

تعليمات عامة :

- يستغرق العمل على المهمة حصتان دراسيتان متتاليتان.
- يوزع المعلم أوراق المهمة على الطلاب ويوضح لهم المقصود منها .
- يشرف المعلم على مراحل تنفيذ المهام خلال الحصص المخصصة لذلك.
- يجب الطلاب عن المطلوب من المهمة في نفس الورقة.
- لا مانع من استخدام الطالب الكتاب المدرسي إذا أراد ذلك .

المهمة الثامنة (نحو حياة مستدامة)

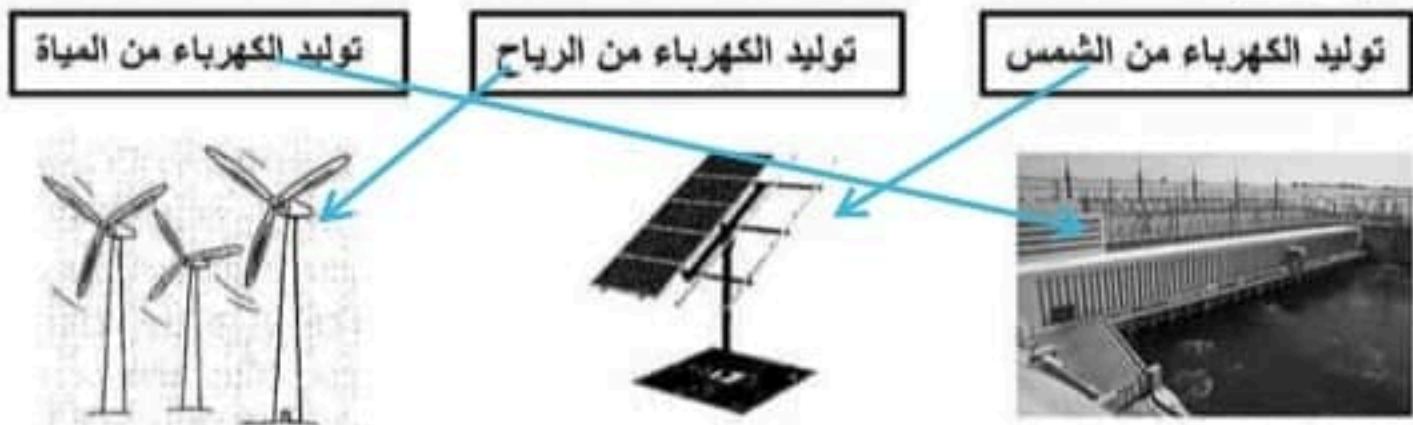
١- أمامك مجموعة من السلوكيات ضع علامة (√) أمام السلوكيات التي ترى أنها جيدة وعلامة (x) أمام السلوكيات التي ترى أنها غير جيدة :

أ / محمد وهيبه
استاذ الدراسات الاجتماعيه
٠١٠٦٦٠٩٥٤٦٥

- ترك التلفزيون مفتوح طوال الليل ونحن نيام (X)
- إلقاء القمامة في الترع ونهر النيل (X)
- إغلاق صنور العياد أثناء تنظيف اسناني (✓)
- شراء كميات مناسبة من الطعام وعدم تخزينها (✓)
- استخدام الدش بدلا من حوض الاستحمام (✓)

٢- اتجهت دول العالم لاستخدام مصادر الطاقة المتجددة لأنها طاقة نظيفة لا تتسبب في تلوث البيئة
أذكر اثنين من هذه المصادر **الطاقة الشمسية** و **طاقة الرياح**

٣- الصور التالية صور تعبر عن توليد الكهرباء من الطاقة المتجددة صل كل صورة بما يناسبها من
كلمات :



٤- أطلقت الدولة مبادرة لحث المواطنين على المشاركة في الحفاظ على البيئة وترشيد استهلاك
الغذاء والطاقة والتوعية بأهمية التشجير وإعادة تدوير المخلفات ؟
اتحضر للأخضر
ما اسم هذه المبادرة

٥- اقترح أحد الحلول للحفاظ على مياه نهر النيل. **فرض عقوبة لمن يلوث مياه نهر النيل**


٦- شجعت الدولة المزارعين على استخدام **الاسمدة العضوية** بدلا من الاسمدة الكيميائية .

تعليمات عامة :

- يستغرق العمل على المهمة حصتان دراسيتان متتاليتان.
- يوزع المعلم أوراق المهمة على الطلاب ويوضح لهم المقصود منها .
- يشرف المعلم على مراحل تنفيذ المهام خلال الحصص المخصصة لذلك.
- يجيب الطلاب عن المطلوب من المهمة في نفس الورقة.
- لا مانع من استخدام الطالب الكتاب المدرسي إذا أراد ذلك .

المهمة التاسعة (الحرف التراثية)

١- أمامك مجموعة من الصور صل كل عبارة بالصورة التي تناسبها :



صناعة الزجاج

صناعة الخيامية

صناعة السجاد اليدوي

صناعة الفخار

أ / محمد وهيبه
استاذ الدراسات الاجتماعيه
٠١٠٦٦٠٩٥٤٦٥

جراح

- ٢- من أشهر القرى بصناعة الزجاج قرية
٣- من أشهر القرى بصناعة النسيج والسجاد اليدوي قرية **الجزيريانية**.
- ٤- تتركز صناعة الخيامية بشارع الخيامية بحي **الإزهر** محافظة **البحيرة**.
- ٥- قائمة التراث العالمي المسنول عنها هي منظمة **اليونسكو**.
- ٦- أهم المعارض التي أقامتها الدولة للحرف اليدوية هو معرض **تراثنا**.
- ٧- " الحرف التراثية تدعم السياحة المستدامة " العبارة (صحيحة - خاطئة)
- ٨- " توفر الحرف التراثية فرص عمل للشباب " العبارة (صحيحة - خاطئة)
- ٩- " الحرف التراثية اليدوية تلوث البيئة بسبب المخلفات " العبارة (صحيحة - خاطئة)
- ١٠- " تقوم الدولة برعاية مصالح العمال بالحرف التراثية واعداد برامج تدريبية لهم "

العبارة (صحيحة - خاطئة)

تعليمات عامة :

- يستغرق العمل على المهمة حصتان دراسيتان متتاليتان.
- يوزع المعلم أوراق المهمة على الطلاب ويوضح لهم المقصود منها .
- يشرف المعلم على مراحل تنفيذ المهام خلال الحصص المخصصة لذلك.
- يجيب الطلاب عن المطلوب من المهمة في نفس الورقة.
- لا مانع من استخدام الطالب الكتاب المدرسي إذا أراد ذلك .

المهمة العاشرة (المستثمر الصغير)



١- أمامك صورة لبنك مصر وصورة أخرى للبنك المركزي المصري ، أجب عن الاسئلة الآتية :

- من الذي قام بتأسيس بنك مصر ؟ **محمد طلعت جرب باشا**
- متى تم تأسيس بنك مصر ؟ م **1920**
- من المسئول عن إصدار النقود والاشراف على البنوك ؟ **البنك المركزي المصري**
- الاموال التي يعطيها البنك للمستثمرين يطلق عليها اسم **القروض**
- كلما قل الاستهلاك زاد **الإدخار** .. وزاد الاستثمار وازدهر الاقتصاد
- الاشياء التي يجب ان نحصل عليها لنعيش يطلق عليها **الحاجات**
- الاشياء التي نستطيع العيش بدونها يطلق عليها **الرغبات**

٢- اكتب أمام العبارات الآتية الكلمة التي تناسبها مما يلي (حاجات) (رغبات) :

- شراء المواد الغذائية **حاجات**
- شراء كرة قدم **رغبات**
- شراء أدوات مدرسية **حاجات**
- شراء ساعة حائط **رغبات**
- شراء سيارة لعبة **رغبات**
- شراء معجون أسنان **حاجات**
- شراء حذاء للمدرسة **حاجات**
- شراء بلاي ستيشن **رغبات**

أ / محمد وهيبه
استاذ الدراسات الاجتماعية
٠١٠٦٦٠٩٥٤٦٥

المهام الأدائية
للفف الرابع الابتدائي
مادة الدراسات الاجتماعية

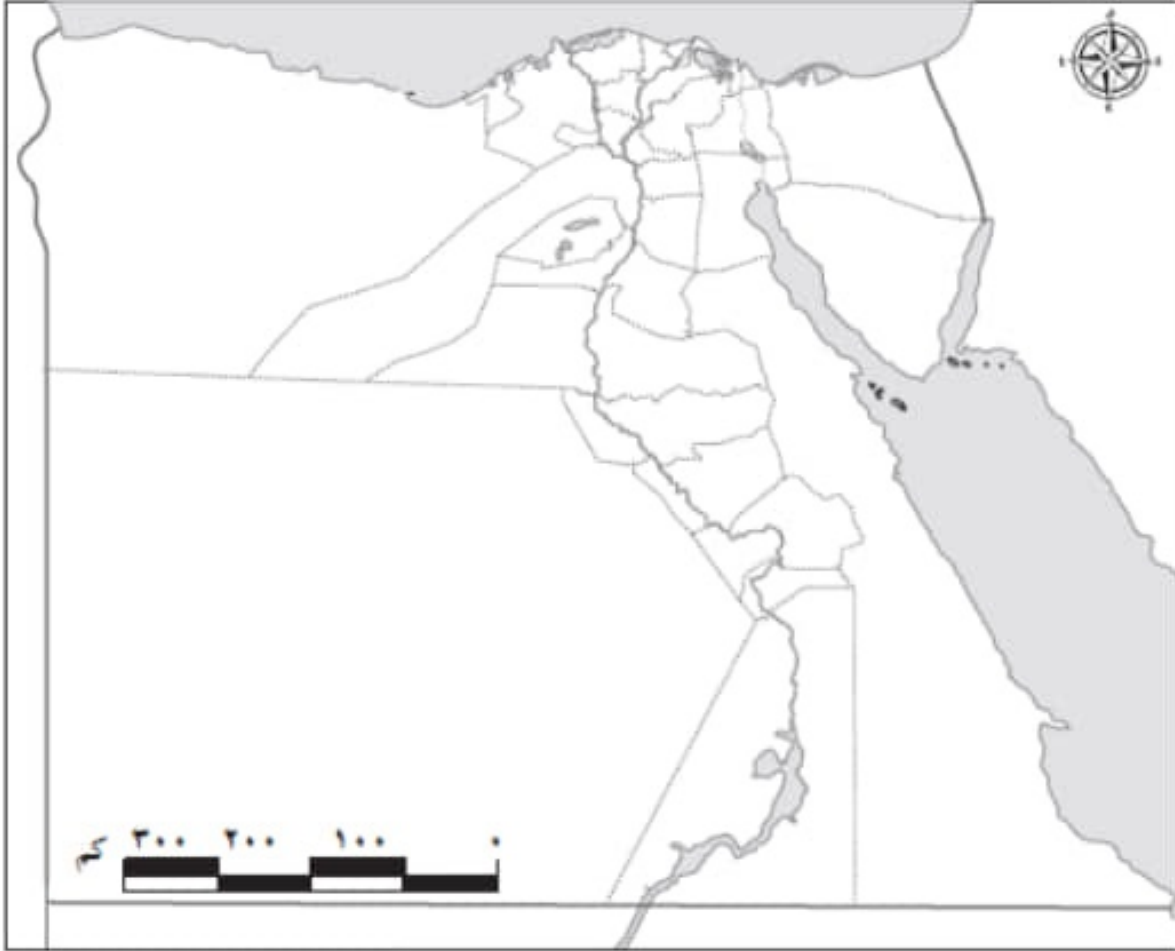
تعليمات عامة:

- يستغرق العمل علي المهمة حصتان دراسيتان متتاليتان.
- يوزع المعلم أوراق المهمة علي الطلاب ويوضح لهم المقصود منها.
- يشرف المعلم علي مراحل تنفيذ المهام خلال الحصص المخصصة لذلك.
- يجيب الطلاب عن المطلوب من المهمة في نفس الورقة.
- لا مانع من استخدام الطالب للكتاب المدرسي إذا أراد ذلك.

المهمة الأمانية (محافظتي)

الاسم : الفصل :

أمامك خريطة لمحافظة مصر لاحظها جيداً ثم نفذ المهمة التالية.



1. لون محافظتك واكتب أسماء المحافظات التي تحدها (٢ على الأقل)

.....

.....

.....

2. حدد البيئة التي تقع فيها محافظتك.

.....

3. حدد مشكلة بيئية تعاني منها محافظتك

.....

.....

4. اقترح حلول لهذه المشكلة (يكتبى بمقترح واحد)

.....

.....

.....

المهام الأدائية (علم بلادي)

الاسم : الفصل :

يعد علم مصر رمز للدولة ، لاحظه جيدًا ثم نفذ المهمة التالية.

1- لون علم مصر بألوانه الصحيحة.



2- اكتب جملة تعبر بها عن احترامك لعلم بلدك

.....

3- تخيل أنه طلب منك تصميم شعارًا لمدرستك ترفعه في المسابقات بين المدارس، حدد

لون ورمز تستخدمهما في رسم شعار مدرستك مبرزا اختيارك.

اللون

سبب الاختيار

الرمز

سبب الاختيار

المهام الأدائية (مصادر المعلومات)

الاسم : الفصل:

أوضحت المعلمة للتلاميذ أن الأهرامات تعد من أجمل المعالم السياحية في مصر الأثار وتوجد في منطقة الجيزة، وأن الهرم الأكبر يسمى بهرم خوفو، ويتميز بضخامة حجمه، ويبلغ ارتفاعه الحالي يبلغ 138 متراً، وقال خالد أن منطقة الأهرامات منطقة جذابة، وقالت مريم أن لدى والدها عديد من الكتب والموسوعات عن منطقة الأهرامات ، كلفت المعلمة التلاميذ بإجراء بحث عن الأهرامات ووجهتهم لاستخدام بنك المعرفة المصري وموقع وزارة السياحة والآثار المصرية، لجمع المعلومات عنها، وقال أحمد يمكنني زيارة منطقة الأهرامات لالتقاط بعض الصور والاستعانة بها في البحث.

1- استخرج من الفقرة السابقة مصدر أولى ومصدر ثانوى يمكن الرجوع إليهما عند اجراء بحث عن الأهرامات وسجلهما في الجدول التالي:

مصدر ثانوى	مصدر أولى

2- استخرج من الفقرة السابقة ما يلي:

رأى:

حقيقة:

3- في رأيك أي من الشكلين أدناه يعد مصدر للمعلومات عن أهرامات الجيزة ؟ (برر اجابتك)



.....
.....

المهام الأدائية (توقعات الأرصاد الجوية)

الاسم : الفصل :

اقرأ التوقعات التالية لهيئة الأرصاد الجوية عن حالة الطقس ثم أجب :

وزارة الطيران المدني
الهيئة العامة للأرصاد الجوية
الإدارة العامة للتنبؤات والإنذار المبكر

Ministry of Civil Aviation
Egyptian Meteorological Authority
RSMC- Cairo

حالة الطقس المتوقعة
من السبت 11 ديسمبر 2021 إلى الخميس 16 ديسمبر 2021

• السبت 11 ديسمبر والأحد 12 ديسمبر 2021 : ارتفاع في درجات الحرارة على كافة الاتجاهات ليسود طقس معتدل الحرارة نهائياً على القاهرة الكبرى والوجه البحري والسواحل الشمالية وشمال الصعيد وجنوب سيناء معتدل للحرارة على جنوب الصعيد، بفرق ليلاً على كافة الاتجاهات.

درجات الحرارة المتوقعة كالآتي:

المنطقة	السبت 11 ديسمبر		الأحد 12 ديسمبر		الاثنين 13 ديسمبر		الثلاثاء 14 ديسمبر		الأربعاء 15 ديسمبر		الخميس 16 ديسمبر	
	صغرى	عظمى	صغرى	عظمى	صغرى	عظمى	صغرى	عظمى	صغرى	عظمى	صغرى	عظمى
القاهرة والوجه البحري	15	24	15	25	13	21	12	20	12	20	12	19
السواحل الشمالية	14	23	15	22	14	21	14	19	14	18	14	18
جنوب سيناء	16	27	16	29	16	26	16	25	16	23	16	23
شمال الصعيد	11	25	13	26	11	22	09	21	09	20	09	20
جنوب الصعيد	14	30	13	30	13	28	11	25	11	23	11	23

السبت 11 ديسمبر والأحد 12 ديسمبر 2021

• شبورة مائية : على بعض الطرق المؤدية من وإلى القاهرة الكبرى والوجه البحري والسواحل الشمالية (من 5 إلى 7 صباحاً)

• فرص أمطار خفيفة : على مدينتي حلوان وشلاتين على فترات متقطعة.
(بنسبة محتمل 30:20%)

1- حدد عناصر الطقس التي وردت بالفقرة

.....

2- سجل الأداة التي تستخدم لقياس كل عنصر من عناصر الطقس الواردة بالفقرة

العنصر	الأداة

3- في رأيك لماذا من الضروري متابعة أخبار الطقس يوميًا؟

.....

.....

المهام الأدائية : محافظتي

أمامك خريطة لمحافظة مصر
لاحظها جيداً ثم نفذ المهمة التالية



جروب : رابعة ابتدائي هذا كرمع بعض منهج جديد 2022
بسميحة محمد مصطفى

المهام الأدائية : محافظتي

أمامك خريطة لمحافظات مصر
لاحظها جيدًا ثم نفذ المهمة التالية

لون محافظتك
واكتب أسماء المحافظات التي تحدها



محافظتي
القاهرة



جروب : رابعة ابتدائي هنذاكرم مع بعض منهج جديد 2022
بسميحة محمد مصطفى

المهام الأدائية : محافظتي

أمامك خريطة لمحافظات مصر
لاحظها جيدًا ثم نفذ المهمة التالية

لون محافظتك
واكتب أسماء المحافظات التي تحدّها

محافظه القاهرة يحدها
من الشمال محافظه القليوبية
ومن الغرب محافظه الجيزة



المهام الأدائية : محافظتي

أمامك خريطة لمحافظة مصر
لاحظها جيداً ثم نفذ المهمة التالية

حدد البيئة التي تقع فيها محافظتك

تنتمي محافظة القاهرة للبيئة الزراعية
لأنها تقع على الضفة الشرقية لنهر النيل

حدد مشكلات بيئية تعاني منها محافظتك

مشكلة تلوث الهواء

الدخان الناتج عن عوادم السيارات ودخان المصانع، و
حرق قش الأرز في البيئة الزراعية أدى إلى تلوث الهواء

المهام الأدائية : محافظتي

أمامك خريطة لمحافظات مصر
لاحظها جيداً ثم نفذ المهمة التالية

اقترح حلول لهذه المشكلة



استخدام السيارات التي تعمل
بالغاز الطبيعي بدلاً من البنزين



استخدام الدراجات بدلاً من السيارات
عند الذهاب لمكان قريب



وزراعة النباتات في البيئة المحيطة

المهام الأدائية : علم بلادي

يُعد علم مصر رمز للدولة
لاحظه جيدًا ثم نفذ المهمة التالية

لون علم مصر بألوانه الصحيحة



جروب : رابعة ابتدائي هذا كرمع بعض منهج جديد 2022
بسميحة محمد مصطفى

المهام الأدائية : علم بلادي

يُعد علم مصر رمز للدولة
لاحظه جيداً ثم نفذ المهمة التالية

اكتب جملة تعبر بها عن احترامك لعلم بلدك



قف باحترام أثناء تحية العلم

جروب : رابعة ابتدائي هذا كرمع بعض منهج جديد 2022
بسميحة محمد مصطفى

المهام الأدائية : علم بلادى

تخيل أنه طلب منك تصميم شعاراً لمدرستك
ترفعه في المسابقات بين المدارس
حدد لون ورمز تستخدمهما في رسم شعار
مدرستك **وسبب** اختيارك لهم



المهام الأدائية : علم بلادى

اللون : أصفر - أزرق - أخضر
سبب الإختيار : ألوان بيئات مصر
اللون الأصفر : بيئة صحراوية
اللون الأزرق : بيئة ساحلية
اللون الأخضر : بيئة زراعية

الرمز : كتاب مفتوح

سبب اختياري للرمز : الكتاب رمز للعلم والمعرفة



المهام الأدائية : ظواهر تضاريسية

أمامك صورتان لظواهر تضاريسية موجودة بمصر

لون كل ظاهرة تضاريسية بلونها الصحيح



الظاهرة 1

المهام الأدائية : ظواهر تضاريسية

أمامك صورتان لظواهر تضاريسية موجودة بمصر

لون كل ظاهرة تضاريسية بلونها الصحيح



الظاهرة 2

جروب : رابعة ابتدائي هذا كرمع بعض منهج جديد 2022
بسميحة محمد مصطفى

المهام الأدائية : ظواهر تضاريسية

أمامك صورتان لظواهر تضاريسية موجودة بمصر

اكتب اسم كل ظاهرة ثم صفها

الظاهرة 1 : جبال

الجبال : أراضي شديدة الارتفاع ولها قمة وجوانبها شديدة الانحدار

الظاهرة 2 : نهر و سهل فيضي

النهر : مجرى مائي عذب

السهل الفيضي : مساحة من الأرض مستوية

قليلة الارتفاع وتتكون من رواسب الأنهار

حدد ظاهرة تضاريسية مميزة في محافظتك ثم صفها

القاهرة : يوجد بها تلال المقطم

التل : أرض مرتفعة قليلاً ولها قمة ويقل ارتفاعها عن 1000 متر

جروب : رابعة ابتدائي هنذاكر مع بعض منهج جديد 2022

سميحة محمد مصطفى

المهام الأدائية : مصادر المعلومات

استخرج من الفقرة السابقة مصدر أولي ومصدر ثانوي
يمكن الرجوع إليهما عند إجراء بحث عن الأهرامات

مصدر ثانوي

مصدر أولي

الكتب
و الموسوعات

الصور


رأى : الأهرامات منطقة جذابة

رأى : الأهرامات تعد من أجمل المعالم السياحية في مصر

حقيقة : الهرم الأكبر يسمى بهرم خوفو

المهام الأدائية : مصادر المعلومات

في رأيك أي من الشكلين أدناه يعد
مصدر للمعلومات عن أهرامات الجيزة ؟



شكل 1



شكل 2

شكل 2 : **مصدر أولي** ؛ لأنها صورة مُلتقطة للأهرامات

جروب : رابعة ابتدائي هذا كرمع بعض منهج جديد 2022
بسميحة محمد مصطفى

المهام الأدائية : توقعات الأرصاد الجوية

حدد عناصر الطقس التي وردت بالفقرة



الحرارة - الأمطار

سجل الأداة التي تستخدم لقياس كل عنصر من عناصر الطقس

الأداة	العنصر
الترمومتر	الحرارة
مقياس المطر	الأمطار

في رأيك لماذا من الضروري متابعة أخبار الطقس يوميًا؟

تساعدنا متابعة أحوال الطقس على اتخاذ القرارات اليومية

اختيار الملابس المناسبة

تحديد وقت السفر

جروب : رابعة ابتدائي هذا كرمع بعض منهج جديد 2022

بسميحة محمد مصطفى

رامى لطفى

المهام الأدائية (مصادر المعلومات)

الفصل:

الاسم :

أوضحت المعلمة للتلاميذ أن الأهرامات تعد من أجمل المعالم السياحية في مصر الأثار وتوجد في منطقة الجيزة، وأن الهرم الأكبر يسمى بهرم خوفو، ويتميز بضخامة حجمه، ويبلغ ارتفاعه الحالي يبلغ 138 مترا، وقال خالد أن منطقة الأهرامات منطقة جذابة، وقالت مريم أن لدى والدها عدد من الكتب والموسوعات عن منطقة الأهرامات ، كتبت المعلمة للتلاميذ بإجراء بحث عن الأهرامات ووجهتهم لاستخدام بنك المعرفة المصري وموقع وزارة السياحة والآثار المصرية، لجمع المعلومات عنها، وقال أحمد يمكنني زيارة منطقة الأهرامات لالتقاط بعض الصور والاستعانة بها في البحث.

- 1- استخرج من الفقرة السابقة مصدر أولى ومصدر ثانوى يمكن الرجوع إليهما عند اجراء بحث عن الأهرامات وسجلهما في الجدول التالي:

مصدر ثانوى	مصدر أولى
مصادر الأبحاث	الأهرامات

2- استخرج من الفقرة السابقة ما يلى:
الاهرامات من اجمل المعالم الابحاث

رأى: السياحة في مصر
حقيقة: الهرم الاكبر يسمى بهرم خوفو

- 3- طي رابك أي من الشكائين الذين ازيد مصدر المعلومات عن اهرامات الجيزة ؟ (برر اجابتك)



شكل (2)



شكل (1)

المشكل رقم ٢
لان الاهرامات تعد مصدر اولى
للمعلومات

رامى لطفى

المهام الأدائية (علم بلدى

الاسم :

يعد علم مصر رمز للدولة ، لاحظته جيدًا ثم نفذ المهمة التاليه.

1- لون علم مصر باللوانه الصحيحه.

الوان العلم معروفه للجميع



2- اكتب جُله تعبر بها عن احترامك لعلم بلدى

3- تخيل انه طلب منك تصميم شعار لمدرستك ترفعه على المسابقت بين المدارس، حدد

لون ورمز تستخدمهما فى رسم شعار مدرستك مبررًا اختيارك.

اللون تعبيرا عن دم الشهداء اللذين

سبب الاختيار ضحوا بحياتهم من أجل الوطن

الرمز سبب الاختيار يترك الخيار لكم فى الرمز

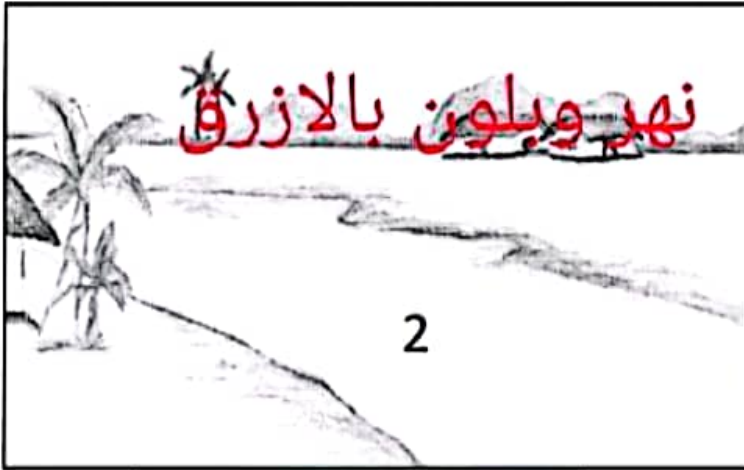
رامي لطفى

الفصل:


الاسم :

أمامك صورتان لظواهر تضاريسية موجودة بمصر

1- لون كل ظاهرة تضاريسية بلونها الصحيح فى ضوء دراستك لخريطة مستويات ارتفاعات سطح مصر .



الظاهرة (2)



الظاهرة (1)

2- اكتب اسم كل ظاهرة ثم وصفها
جبل وهو ارض مرتفعة عما
حولها ولها قمة وجوانبها شديدة
الانحدار

اسم الظاهرة (2) ووصفها:

نهر وهو مجرى مائي عذب

3- حدد ظاهرة تضاريسية مميزة فى محافظتك ثم صفها.

على حسب كل محافظة نشوف
اي تضاريس ونكتبها جبل أو بحر
أو خلافه ونصفه

المهمة الأدائية (محافظة)

الاسم : الفصل :

أمامك خريطة لمحافظة مصر لاحظها جيدًا ثم نفذ المهمة التالية.



1. لون محافظتك واكتب أسماء المحافظات التي تحدها (٢ على الأقل)

اكتب اسم محافظتك
ومحافظتين بجوارها من خلال
جوجل

2

2. حدد البيئة التي تقع فيها محافظتك.
يضا يتم تحديد البيئة

3. حدد مشكلة بيئية تعاني منها محافظتك

مشكلة تلوث الهواء

4. اقترح حلول لهذه المشكلة (يكتفى بمقترح واحد)

توقيع غرامة على كل من يلوث
الهواء

رامى لطفى

الاسم :

اقرأ التوقعات التالية لهيئة الأرصاد الجوية عن

Egyptian Meteorological Authority
K.M.M.C. Cairo

الهيئة العامة للأرصاد الجوية
مركز توقعات الطقس والاضواء الشمسية

حالة الطقس المتوقعة
من السبت 11 ديسمبر 2021 إلى الخميس 16 ديسمبر 2021

• السبت 11 ديسمبر والأحد 12 ديسمبر : ارتفاع في درجات الحرارة على كافة الأجزاء لسبب نفث من شمال الحرارة نهرا على الشاهرة الكبرى والوجه البحري والسواحل الشمالية وشمال الصعيد وجنوب سيناء معال للحرارة على جنوب الصعيد، بهله ليل على كافة الأجزاء.

درجات الحرارة بطنس وصغار المتوقعة بالليل

المنطقة	السبت 11 ديسمبر	الأحد 12 ديسمبر	الاثنين 13 ديسمبر	الثلاثاء 14 ديسمبر	الأربعاء 15 ديسمبر	الخميس 16 ديسمبر
الوجه البحري	15 - 24	15 - 25	13 - 21	12 - 20	12 - 20	12 - 19
السواحل الشمالية	14 - 23	15 - 22	14 - 21	14 - 19	14 - 18	14 - 18
جنوب سيناء	16 - 27	16 - 26	16 - 26	16 - 25	16 - 23	16 - 23
شمال الصعيد	11 - 25	11 - 24	11 - 22	11 - 21	09 - 20	09 - 20
جنوب الصعيد	14 - 28	14 - 26	13 - 28	13 - 25	11 - 23	11 - 23

سبت 11 ديسمبر والأحد 12 ديسمبر 2021

• شجيرة عطية : طر بهل الشول الدريسة من ولى الشاهرة الكبرى والوجه البحري والسواحل الشمالية (من 9 ص 7 مساءً)

• فرس قشور خفيفة : طر مدينتى مياط وسلاطين طر صراف متقطعة، بسا صرة (9 ص 7 مساءً)

1- حدد عناصر الطقس التي ورت بالفقرة
الحرارة والأمطار

2- سجل الأداة التي تستخدم لقياس كل عنصر من عناصر الطقس الواردة بالفقرة

العنصر	الأداة
الحرارة	الترمومتر
الامطار	مقياس الامطار

7

3- فى رأيك لماذا من الضرورى متابعة أخبار الطقس يومياً؟

تساعد الناس على التخطيط
لحياتهم اليومية